


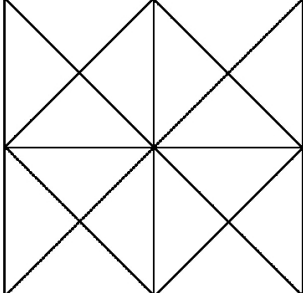




**Международный турнир «Математические ступеньки»
(для учащихся 1-2 классов)**

Задания

Ответ должен быть представлен строго в виде ОДНОГО ЧИСЛА без кавычек, точек, орфографических ошибок в именительном падеже и единственном числе. Неверно записанные ответы не учитываются.

№	Задача	
1	В двух гнёздах ласточек 13 птенцов. Из одного гнезда уже вылетели 5 птенцов, из другого – 6. Скольким птенцам еще предстоит вылететь? <i>В ответе запишите только одно число.</i>	
2	Бобры построили 3 плотины, потом еще 3, а потом еще 5. Сколько всего плотин построили бобры? <i>В ответе запишите только одно число.</i>	
3	Какое число будет стоять на восьмом месте в последовательности чисел: 1, 5, 9, 13, Запишите это число в ответе. <i>В ответе запишите только одно число.</i>	
4	У Ани было три ленточки. Она разрежала все ленточки, сделав на каждой три разреза. Сколько теперь у Ани ленточек? <i>В ответе запишите только одно число.</i>	
5	Масса трёх яиц стрижа 8 грамм. Одно из них весит 3 грамма, второе – 2 грамма. Сколько граммов весит третье яйцо? <i>В ответе запишите только одно число.</i>	
6	Помогите разделить 18 грибов поровну между тремя бельчатами. Сколько грибов досталось каждому? <i>В ответе запишите только одно число.</i>	
7	Пять апельсинов тяжелее, чем шесть яблок. Что тяжелее, шесть апельсинов или семь яблок? 1) шесть апельсинов 2) семь яблок 3) одинаково <i>В ответе запишите только номер выбранного варианта.</i>	
8	Маша живёт на этаже, который четвёртый сверху и снизу её дома. Сколько этажей в доме Маши? <i>В ответе запишите только одно число.</i>	

<p>9</p>	<p>Яблоко легче банана, а апельсин тяжелее яблока. Что тяжелее апельсин или банан?</p> <p>1) апельсин 2) банан 3) одинаковы 4) Невозможно определить</p> <p><i>В ответе запишите только номер выбранного варианта.</i></p>	
<p>10</p>	<p>У Лизы и Светы вместе 14 воздушных шариков. У Лизы на 4 шарика больше, чем у Светы. Сколько шариков у Светы?</p> <p><i>В ответе запишите только одно число.</i></p>	
<p>11</p>	<p>В трехлитровую кастрюлю, трехлитровый чайник и трехлитровый кувшин налили воды. Куда уместилось больше воды?</p> <p>1) в кастрюлю 2) в чайник 3) в кувшин 4) одинаково</p> <p><i>В ответе запишите только номер выбранного варианта.</i></p>	
<p>12</p>	<p>Сосчитайте, сколько всего квадратов на рисунке.</p> <p><i>В ответе запишите только одно число.</i></p>	
<p>13</p>	<p>Девять ребят взяли из корзинки фрукты. Шестеро взяли по яблоку, четверо – по груше. Никто не остался без фрукта. Сколько ребят взяли и яблоко, и грушу?</p> <p><i>В ответе запишите только одно число.</i></p>	
<p>14</p>	<p>Вика выложила в ряд 6 шоколадных конфет. Вера между всеми шоколадными конфетами положила по одной карамельке. Валя между шоколадными конфетами и карамельками положила по одной ириске. Сколько получилось ирисок?</p> <p><i>В ответе запишите только одно число.</i></p>	
<p>15</p>	<p>Если из одной стопки тетрадей переложить в другую стопку 6 тетрадей, то тетрадей в стопках станет поровну. На сколько больше тетрадей в первой стопке, чем во второй?</p> <p><i>В ответе запишите только одно число.</i></p>	